

小5理科 動物の分類




番号		氏名		得点	
----	--	----	--	----	--

1 次の動物は何類にあたりますか。「ホニュウ類・鳥類・ハチュウ類・両生類・魚類・昆虫類・甲殻類・節足動物・軟体動物・その他」に分類しなさい。ただし、「節足動物」という答えは、「昆虫類でも甲殻類でもない節足動物」に対してのみ使ってよいものとします。

(1) ア行

- ・アサリ = (図 1)
- ・イグアナ = (図 2)
- ・イモリ = (図 3)
- ・ウナギ = (図 4)
- ・ウニ = (図 5)
- ・エビ = (図 6)




(2) カ

- ・カエル = (図 7)
- ・カタツムリ = (図 8)
- ・カニ = (図 9)
- ・カメ = (図 10)
- ・カモノハシ = (図 11)
- ・カンガルー = (図 12)



(3) キ～コ

- ・クジラ = (図 13)
- ・クモ = (図 14)
- ・コイ = (図 15)
- ・コウモリ = (図 16)



(4) サ行

- ・サル = (図 17)
- ・サンショウウオ = (図 18)
- ・スズメ = (図 19)
- ・セミ = (図 20)
- ・ゾウリムシ = (図 21)




(5) タ行・ナ行

- ・タコ = (図 22)
- ・トカゲ = (図 23)
- ・トンボ = (図 24)
- ・ネズミ = (図 25)
- ・ネコ = (図 26)



(6) ハ行

- ・バッタ = (図 27)
- ・ヒトデ = (図 28)
- ・ヘビ = (図 29)
- ・ペンギン = (図 30)



(7) マ・ヤ・ラ・ワ行

- ・ミジンコ = (図 31)
- ・ムカデ = (図 32)
- ・ヤマネ = (図 33)
- ・ヤモリ = (図 34)
- ・ラッコ = (図 35)
- ・ワニ = (図 36)

